



NP A CHKO ŠUMAVA VE ŠKOLNÍCH LAVICÍCH

III. kategorie (4. třída)

ŠKOLA:

PRÍJMENÍ:

JMÉNO: BODY:

1. Přiraď k národním parkům, co k nim patří. (Příslušná písmena napiš do řádků pod znakem daného národního parku.)

Body



Krkonošský NP



NP České Švýcarsko



NP Podyjí




NP Šumava

- | | |
|--------------------------------|--|
| a) náš nejstarší národní park | e) park, kde se nachází nejvyšší hora ČR |
| b) nejmenší národní park v ČR | f) park, kde jsou ledovcová jezera |
| c) největší národní park v ČR | g) park, který má odvozené jméno od řeky |
| d) nejmladší národní park v ČR | h) park, kde leží Pravčická brána |

2. Přiraď k obrázkům, jaké vodní útvary na nich jsou. (Příslušná písmena napiš do kolonek u obrázků.)

Body

- 1) ledovcové jezero 2) potok 3) přehrada 4) řeka 5) slat' 6) plavební kanál



3. Poskládej z písmen názvy šumavských řek a napiš je k příslušným oválům.

Body




4. Zakroužkuj, kteří ptáci jsou u nás silně nebo kriticky ohrožení.

Body



čáp černý



kachna divoká



sýc rousný



tetřívka obecná



pěnkava obecná



poštolka obecná



sokol stěhovavý



sojka obecná

5. Zakroužkuj živočichy, kteří žijí ve vodě.

Body



6. Rozděl ptačí druhy podle způsobu hnízdění. (Písmenka od obrázků napiš do příslušných řádků.)

Body




a



b



c



d



e



f



g



h



i



j



k



l

Hnízda na větvích stromů nebo keřů:.....

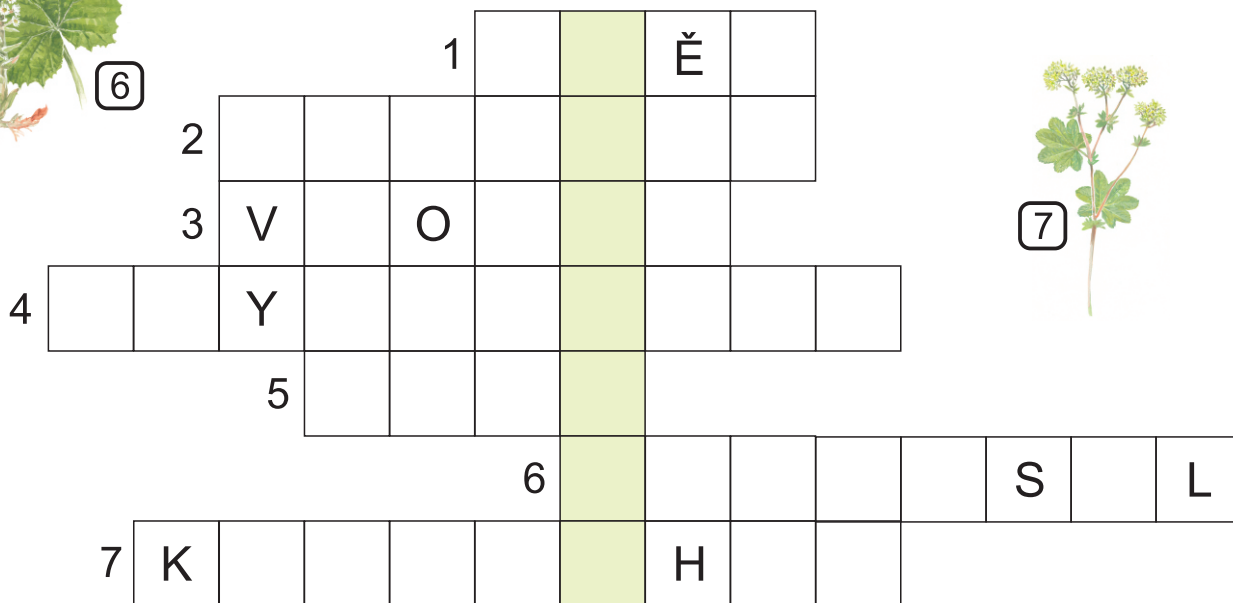

Hnízda na zemi:.....

Hnízda na březích vodních toků:.....

Hnízda v dutinách stromů:.....

7. Doplň podle čísel do křížovky názvy rostlin z okolí vod a vlhkých stanovišť.

Body



8. Napiš rodové a druhové názvy ptáků (příklad: vrabec polní, vrabec - rodový n., polní - druhový n.). Zakroužkuj ty ptáky, kteří u nás netráví zimu.

Body



.....

.....

.....

.....



.....


.....

.....

.....

9. Kterí živočichové mají společnou potravu? Vyber ke každé potravě vždy správného živočicha z horního i z dolního řádku. Napiš do okének písmenka označující živočichy.

Body



Potrava:

vrbové listí

rybka

šiška

zajíc

tesařík

vejce



10. Najdi mezi vyobrazenými ptačími druhy všechny samičky a zakroužkuj je.

Body

