



# NP A CHKO ŠUMAVA VE ŠKOLNÍCH LAVICÍCH

## IV. kategorie (5. třída)

ŠKOLA: .....

PŘÍJMENÍ: .....

JMÉNO: ..... BODY: .....

1. **Přiraď k národním parkům, co k nim patří.** (Příslušná písmena napiš do řádků pod znakem daného národního parku.)

Body



Krkonošský NP



NP České Švýcarsko



NP Podyjí



NP Šumava

- |                                |  |
|--------------------------------|--|
| a) náš nejstarší národní park  | e) park, kde se nachází nejvyšší hora ČR |
| b) nejmenší národní park v ČR  | f) park, kde jsou ledovcová jezera       |
| c) největší národní park v ČR  | g) park, který má odvozené jméno od řeky |
| d) nejmladší národní park v ČR | h) park, kde leží Pravčická brána        |

2. **Přiraď k obrázkům šumavských míst odpovídající výrazy z možností 1 až 6. Po té k nim doplň názvy z možností a až f.** (Použij číslice a písmena u jednotlivých možností.)

Body



- 1) ledovcové jezero    2) potok    3) přehrada    4) řeka    5) slat'    6) plavební kanál

- a) Vydra    b) Březnický    c) Lipno    d) Černé    e) Tříjezerní    f) Vchynicko-tetovský

3. **Doplň větu.**

Všechna místa z úkolu č. 2 jsou v krajině zásobárnou .....

Body

4. Poskládej z písmen názvy šumavských řek a napiš je k příslušným oválům.

Body















5. Zakroužkuj živočichy, kteří žijí ve vodě. U vybraných živočichů napiš jejich rodový název (příklad: vrabec polní, vrabec - rodový n.).

Body



6. Dopiš k ptačím druhům chybějící části názvů a rozděl je podle způsobu hnízdění. Písmenka od obrázků napiš do příslušných rádků.

Body

					
[a]	[b]	[c]	[d]	[e]	[f]
.....	datel	kulíšek	.....	obecný	vodní
					
[g]	[h]	[i]	[j]	[k]	[l]
lesní	křivka	velký	polní	obecná	ledňáček

Hnízda na větvích stromů nebo keřů:.....

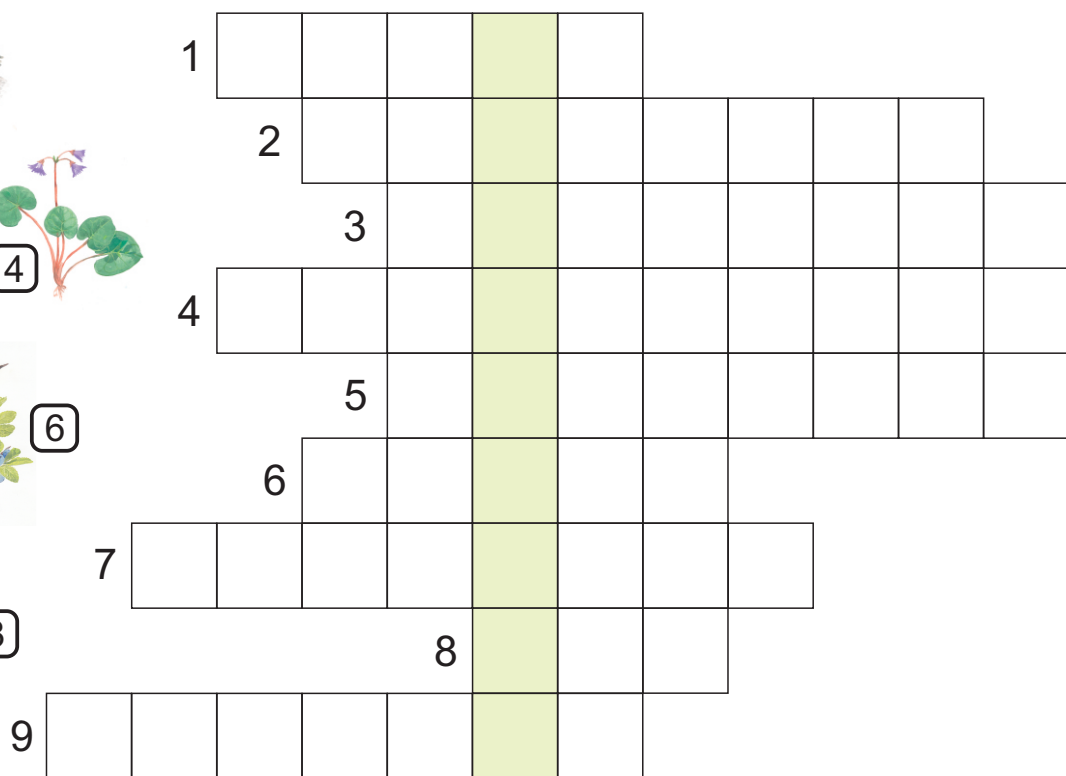

Hnízda na zemi:.....

Hnízda na březích vodních toků:.....

Hnízda v dutinách stromů:.....

7. Doplň do křížovky názvy rostlin, kterým patří vyobrazené části. V tajence vyjde druhový název ptáka, který má rád ořechy. Napiš jeho celý název do řádku pod křížovkou.

Body



Rodový název ptáka: .....

TAJENKA - druhový název ptáka: .....

8. Napiš rodové a druhové názvy živočichů a zakroužkuj ty, kteří jsou u nás silně nebo kriticky ohrožení (příklad: vrabec polní, vrabec - rodový n., polní - druhový n.).


Body





9. Kterí živočichové mají společnou potravu? Vyber ke každé potravě vždy správného živočicha z horního i z dolního řádku. Napiš do okének písmenka označující živočichy.

Body









Potrava:

vrbové listí

rybka

šiška

zajíc

tesařík

vejce








10. Najdi mezi vyobrazenými ptačími druhy všechny samičky a zakroužkuj je.

Body

