



# NP A CHKO ŠUMAVA VE ŠKOLNÍCH LAVICÍCH

## V. kategorie (6. třída)

ŠKOLA: .....

PRÍJMENÍ: .....

JMÉNO: ..... BODY: .....

1. V České republice jsou čtyři národní parky a každý má svůj znak. Napiš ke znaku celý a správný název národního parku bez zkratek.

Body



2. Ve kterém roce byl vyhlášen Národní park Šumava?

Body

a) 1963

b) 1989

c) 1991


d) 2000

3. Pojmenuj známá místa v Národním parku Šumava.

Body



kemp.....



rozhledna.....



řeka.....



slat'



slat'



slat'

4. Napiš rodový a druhový název rostliny (příklad: jeřábník zední, jeřábník - rodový n., zední - druhový n.).

Body



.....  
 .....

5. Napiš rodový a druhový název stromu a zakroužkuj strom, který je v šumavských lesích nejvíce zastoupen (příklad: vrba bílá, vrba - rodový n., bílá - druhový n.).

Body



.....  
 .....

6. Napiš rodové a druhové názvy savců a vyškrtni živočicha, který do dané skupiny nepatří (příklad: veverka obecná, veverka - rodový n., obecná - druhový n.).

Body



.....  
 .....

7. Zakroužkuj správné odpovědi.

Body

Nejvyšším vrcholem pohoří Šumava je a) Velký Roklan b) Velký Javor c) Sněžka

Nejvyšší vrchol Šumavy v Národním parku Šumava je a) Ostrý b) Plechý c) Boubín

Na Šumavě pramení nejdelší česká řeka a jmenuje se a) Labe b) Vltava c) Otava

Největší a nejhlubší ledovcové jezero na Šumavě se jmenuje a) Černé b) Čertovo c) Plešné

Největším savcem žijícím na Šumavě je a) jelen b) medvěd c) los

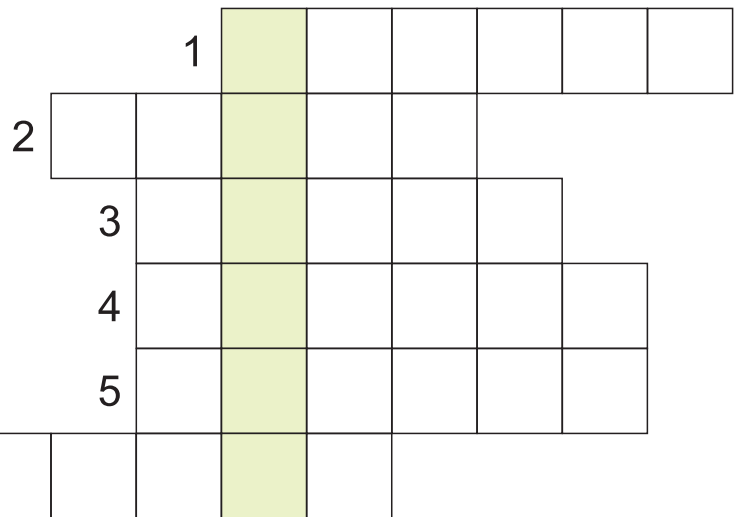
8. Napiš rodový a druhový název živočichů žijících v šumavských vodách a jejich blízkosti (příklad: sumec velký, sumec - rodový n., velký - druhový n.).

Body



9. Vypiš do křížovky rodové názvy ptáků a splň úkoly pod ní.

Body



TAJENKA: ..... vodní

a) Zakroužkuj ptáka, který vyšel v tajence.



b) Zakroužkuj potravu pro ptáka, který vyšel v tajence.



c) Které hnízdo patří ptákovi z tajenky?



10. Hmyz je nejvíce zastoupenou skupinou živočišné říše. Přřaď k vyobrazenému hmyzu jeho název. Číslo u názvu napiš do okénka u hmyzu.

Body




1 klikoroh borový



2 prástevník medvědí



3 dlouhozobka svíželová

4 potápník vroubený




5 svižník polní




6 chrostík



11. Napiš rodový a druhový název houby (příklad: muchomůrka červená, muchomůrka - rodový n., červená - druhový n.).

Body




.....


.....

12. Napiš rodový a druhový název dřeviny, které patří daný list, a přiřaď k němu jeho plod (příklad: vrba bílá, vrba - rodový n., bílá - druhový n.). Číslo u plodu napiš do okénka u listu.

Body










.....

.....



1



2



3



4