



# NP A CHKO ŠUMAVA VE ŠKOLNÍCH LAVICÍCH

## VI. kategorie (7. třída)

ŠKOLA: .....

PRÍJMENÍ: .....

JMÉNO: ..... BODY: .....

Body

1. Pojmenuj národní parky v České republice (uved' celý název bez zkratek). Ke každému národnímu parku přiřaď jeho znak a jeho „nej“.

znak  „nej“

znak  „nej“

znak  „nej“


znak  „nej“

znak: ① ② ③ ④

„nej“: a) největší b) nejmenší c) nejstarší d) nejmladší

2. Pojmenuj známá místa na Šumavě

Body



kemp ..... hájenka ..... řeka .....

3. Jak se nazývá nejvyšší hora na české straně Šumavy a jakou má nadmořskou výšku?

Body

název: ..... nadmořská výška: .....

4. Napiš rodové a druhové názvy ptáků (příklad: vrabec polní, vrabec - rodový n., polní - druhový n.). Označ ptáky stálé - písmenem S a ptáky tažné - písmenem T (příslušná písmena napiš do okének u obrázků).

Body










5. Napiš rodové a druhové názvy savců a škrtni obrázek savce, který nepatří mezi šelmy (příklad: liška obecná, liška - rodový n., obecná - druhový n.).


Body




6. Napiš k živočichovi příslušný řád a přirad' k němu jeho lebku (písmena u lebek napiš do okének u obrázků).

Body










Vybírej z těchto řádů: sudokopytníci, lichokopytníci, dravci, hlodavci, šelmy, hmyzožravci, skákavci, letouni, bahňáci, paroháči, všežravci.



7. Vyplň do okének rodové názvy daných ptáků a přepiš písmena ze zvýrazněných okének podle příslušných čísel do tajenky (příklad: vrabec polní, vrabec - rodový n.).

Body

TAJENKA: 

1	2	3	4	5	6	7	8	9	10	11
							M			



1

--	--	--	--	--	--



3

--	--	--	--



2

--	--	--	--	--	--	--	--



9

--	--	--



5 7

--	--	--	--	--



11

--	--	--	--	--



10

--	--	--




6


4

--	--	--	--

8. Napiš rodové a druhové názvy ptáků (příklad: vrabec polní, vrabec - rodový n., polní - druhový n.) a ke každému přiřaď jedno správné peříčko a jednu vhodnou potravu (číslo u peří a písmeno u potravu napiš do okének k danému ptákovi).

Body



--	--







1



2



3



4



5



6



a



b




c



d



e





f



9. Napiš rodové a druhové názvy rostlin (příklad: dříváčka horská, dříváčka - rodový n., horská - druhový n.). Zařaď rostliny do biotopu, ve kterém rostou. Do okénka u rostliny napiš příslušné písmenko biotopu: L = les, V = voda a okolí vod, R = rašeliniště, B = bezlesí (louka).

Body




















10. Napiš rodový a druhový název dřeviny, které patří daná větvíčka (příklad: vrba bílá, vrba - rodový n., bílá - druhový n.).

Body



11. Napiš rodový a druhový název dřeviny, které patří daný plod nebo šiška (příklad: vrba bílá, vrba - rodový n., bílá - druhový n.).

Body

