



NP A CHKO ŠUMAVA VE ŠKOLNÍCH LAVICÍCH

VI. kategorie (7. třída)

ŠKOLA:

PRÍJMENÍ: **SPRÁVNÉ ŘEŠENÍ**

JMÉNO: BODY: **120**

Body
12

1. Pojmenuj národní parky v České republice (uved' celý název bez zkratek). Ke každému národnímu parku přiřaď jeho znak a jeho „nej“.

Národní park **Krkonošský národní park**

České Švýcarsko znak **1** „nej“ **c**

Národní park Šumava znak **2** „nej“ **b**

Národní park Podyjí znak **3** „nej“ **d**

znak: **1**  **2**  **3**  **4** 

„nej“: a) největší b) nejmenší c) nejstarší d) nejmladší

2. Pojmenuj známá místa na Šumavě

Body
3



kemp **Antýgl** hájenka **Březník** řeka **Vltava**

3. Jak se nazývá nejvyšší hora na české straně Šumavy a jakou má nadmořskou výšku?

Body
2

název: **Plechý** nadmořská výška: **1378 m n.m.**

4. Napiš rodové a druhové názvy ptáků (příklad: vrabec polní, vrabec - rodový n., polní - druhový n.). Označ ptáky stálé - písmenem S a ptáky tažné - písmenem T (příslušná písmena napiš do okének u obrázků).

Body
12



S

puštík
bělavý



S

tetřev
hlušec



T

čáp
černý



S

tetřívka
obecná

5. Napiš rodové a druhové názvy savců a škrtni obrázek savce, který nepatří mezi šelmy (příklad: liška obecná, liška - rodový n., obecná - druhový n.).

Body
8+1
9



kuna
lesní



plšák
lískový



jezevec
lesní



lasice
hranostaj

6. Napiš k živočichovi příslušný řád a přiřaď k němu jeho lebku (písmena u lebek napiš do okének u obrázků).

Body
8




3

hlodavci



4

šelmy



1

sudokopytníci



2

sudokopytníci

Vybírej z těchto řádů: sudokopytníci, lichokopytníci, dravci, hlodavci, šelmy, hmyzožravci, skákavci, letouni, bahňáci, paroháči, všežravci.



1



2



3



4

7. Vyplň do okének rodové názvy daných ptáků a přepiš písmena ze zvýrazněných okének podle příslušných čísel do tajenky (příklad: vrabec polní, vrabec - rodový n.).

8+1

Body

9

TAJENKA: 1 2 3 4 5 6 7 8 9 10 11

R	E	H	E	K	D	O	M	Á	C	Í
---	---	---	---	---	---	---	---	---	---	---



1

S	K	O	R	E	C
---	---	---	---	---	---



3

H	Ý	L
---	---	---



2

Č	E	R	V	E	N	K	A
---	---	---	---	---	---	---	---



9

Č	Á	P
---	---	---



5 7

S	O	K	O	L
---	---	---	---	---



11

B	R	H	L	Í	K
---	---	---	---	---	---



10

S	Ý	C
---	---	---



6

4

D	A	T	E	L
---	---	---	---	---

8. Napiš rodové a druhové názvy ptáků (příklad: vrabec polní, vrabec - rodový n., polní - druhový n.) a ke každému přiřaď jedno správné peříčko a jednu vhodnou potravu (číslo u peří a písmeno u potravu napiš do okének k danému ptákovu).

Body

16



4

d

sojka
obecná



1

a

kachna
divoká



3

f

strakapoud
velký



5

c

ledňáček
říční



1



2



3



4



5



6

a



b




c



d



e



f



9. Napiš rodové a druhové názvy rostlin (příklad: dřípatka horská, dřípatka - rodový n., horská - druhový n.). Zařaď rostliny do biotopu, ve kterém rostou. Do okénka u rostliny napiš příslušné písmenko biotopu: L = les, V = voda a okolí vod, R = rašeliniště, B = bezlesí (louka).

Body

27


18+9



rosnatka
okrouhlostá



brusnice borůvka/
borůvka černá



hořec
šumavský/panonský



kopřiva
dvoudomá



vratič
obecný



podběl
lékařský



stulík
žlutý



blatouch
bahenní



šťavel
kyselý

10. Napiš rodový a druhový název dřeviny, které patří daná větvička (příklad: vrba bílá, vrba - rodový n., bílá - druhový n.).

Body

8



bříza
bělokorá



hloh
jednosemenný



trnka
obecná



olše
lepkavá

11. Napiš rodový a druhový název dřeviny, které patří daný plod nebo šiška (příklad: vrba bílá, vrba - rodový n., bílá - druhový n.).

Body

14



buk
lesní



javor
klen



jedle
bělokorá



modřín
opadavý



líška
obecná



jilm
horský/drsný



jasan
ztepilý