



Škola:

Kategorie: *I. kategorie*

Jméno:

Číslo.okruhu:

Datum:

Čas startu:



1. STANOVIŠTĚ



K jednotlivým číslům napiš rodový i druhový název dané rostliny.

příklad: kosatec sibiřský (kosatec - rodový n., sibiřský - druhový n.)

1. _____

4. _____

2. _____

5. _____

3. _____

2. STANOVIŠTĚ



K jednotlivým číslům napiš rodový i druhový název dřeviny, které patří daná větvička.

příklad: třešeň ptačí (třešeň - rodový n., ptačí - druhový n.)

1. _____

4. _____

2. _____

5. _____

3. _____

3. STANOVIŠTĚ



K jednotlivým číslům napiš rodový i druhový název daného ptáka.

příklad: čáp bílý (čáp - rodový n., bílý - druhový n.)

1. _____

4. _____

2. _____

5. _____

3. _____

4. STANOVIŠTĚ



K jednotlivým číslům napiš rodový i druhový název daného plaza nebo obojživelníka.

příklad: želva bahenní (želva - rodový n., bahenní - druhový n.)

1. _____

4. _____

2. _____

5. _____

3. _____


6. _____

5. STANOVIŠTĚ




Přiřaď ke vzorkům fotografie míst, ze kterých vzorky pochází.


a




b



c



d



6. STANOVIŠTĚ

K jednotlivým číslům napiš rodový i druhový název daného živočicha.

příklad: medvěd hnědý (medvěd - rodový n., hnědý - druhový n.)

- | | |
|----------|----------|
| 1. _____ | 4. _____ |
| 2. _____ | 5. _____ |
| 3. _____ | |

7. STANOVIŠTĚ

K jednotlivým číslům napiš rodový i druhový název daného hmyzu.

příklad: bělokaz jilmový (bělokaz - rodový n., jilmový - druhový n.)

- | | |
|----------|----------|
| 1. _____ | 4. _____ |
| 2. _____ | 5. _____ |
| 3. _____ | |

8. STANOVIŠTĚ

K jednotlivým číslům napiš rodový i druhový název živočicha, kterému patří dané pobytové znamení. *příklad: krtek obecný (krtek - rodový n., obecný - druhový n.)*

- | | |
|----------|----------|
| 1. _____ | 3. _____ |
| 2. _____ | 4. _____ |

9. STANOVIŠTĚ

K jednotlivým číslům napiš rodový i druhový název dané houby.

příklad: pečárka polní (pečárka - rodový n., polní - druhový n.)

- | | |
|----------|----------|
| 1. _____ | 3. _____ |
| 2. _____ | 4. _____ |

10. STANOVIŠTĚ

K jednotlivým číslům napiš rodový i druhový název dané ryby.

příklad: kapr obecný (kapr - rodový n., obecný - druhový n.)

- | | |
|----------|----------|
| 1. _____ | 3. _____ |
| 2. _____ | |

11. STANOVIŠTĚ

Napiš rodové názvy daných ptáků. *příklad: sýkora koňadra (sýkora - rodový n.)*

- | | |
|----------|----------|
| 1. _____ | 4. _____ |
| 2. _____ | 5. _____ |
| 3. _____ | |