



NP A CHKO ŠUMAVA VE ŠKOLNÍCH LAVICÍCH

III. kategorie (4. třída)

ŠKOLA:

PRÍJMENÍ:

JMÉNO: BODY: **82**

SPRÁVNÉ ŘEŠENÍ

1. Přiraď k národním parkům, co k nim patří. (Příslušná písmena napiš do řádků pod znakem daného národního parku.)

Body
8



Krkonošský NP

a,e



NP České Švýcarsko

d,h



NP Podyjí

b,g



NP Šumava

c,f

a) náš nejstarší národní park

e) park, kde se nachází nejvyšší hora ČR

b) nejmenší národní park v ČR

f) park, kde jsou ledovcová jezera

c) největší národní park v ČR

g) park, který má odvozené jméno od řeky

d) nejmladší národní park v ČR

h) park, kde leží Pravčická brána

2. Přiraď k obrázkům, jaké vodní útvary na nich jsou. (Příslušná písmena napiš do kolonek u obrázků.)

Body
6

1) ledovcové jezero 2) potok 3) přehrada 4) řeka 5) slat' 6) plavební kanál



6



1



4



5



3



2

3. Poskládej z písmen názvy šumavských řek a napiš je k příslušným oválům.

Body
5



Otava



Křemelná



Teplá Vltava



Vydra



Blanice


4. Zakroužkuj, kteří ptáci jsou u nás silně nebo kriticky ohrožení.

Body

4



čáp černý



kachna divoká



sýc rousný



tetřívěk obecný



pěnkava obecná



poštolka obecná



sokol stěhovavý




sojka obecná

5. Zakroužkuj živočichy, kteří žijí ve vodě.

Body

8



6. Rozděl ptačí druhy podle způsobu hnízdění. (Písmenka od obrázků napiš do příslušných řádků.)

Body

12




a



b



c



d



e



f



g



h



i



j



k



l


Hnízda na větvích stromů nebo keřů: a, e, h, k

Hnízda na zemi: d, g, j

Hnízda na březích vodních toků: f, l

Hnízda v dutinách stromů: b, c, i

7. Doplň podle čísel do křížovky názvy rostlin z okolí vod a vlhkých stanovišť.



			1	O	M	Ě	J					
2	B	L	A	T	O	U	CH					
3	V	I	O	L	K	A						
4	P	R	Y	S	K	Y	Ř	N	Í	K		
		5	V	R	B	A						
				6	D	E	V	Ě	T	S	I	L
7	K	O	N	T	R	Y	H	E	L			

8. Napiš rodové a druhové názvy ptáků (příklad: vrabec polní, vrabec - rodový n., polní - druhový n.). Zakroužkuj ty ptáky, kteří u nás netraví zimu.



čáp
černý



káně
lesní



sojka
obecná



čáp
bílý



vlaštovka
obecná



krkavec
velký




kukačka
obecná



straka
obecná

9. Kterí živočichové mají společnou potravu? Vyber ke každé potravě vždy správného živočicha z horního i z dolního řádku. Napiš do okének písmenka označující živočichy.

Body
6



a

b

c

f

e

d

Potrava:

vrbové listí

rybka

šiška

zajíc

tesařík

vejce

m

l

i

j

n

k



10. Najdi mezi vyobrazenými ptačími druhy všechny samičky a zakroužkuj je.

Body
6

