



## Přírodovědná soutěž - I. kolo

# NP A CHKO ŠUMAVA VE ŠKOLNÍCH LAVICÍCH

## III. kategorie (4. třída)



ŠKOLA: .....

PRÍJMENÍ: .....

JMÉNO: ..... BODY: .....

### 1. Zakroužkuj místa, která najdeš na Šumavě.

Body



### 2. Přiřaď ke slovům v horním řádku odpovídající slova ze spodního řádku. Příslušné písmeno napiš do okénka u slova v horním řádku.

Body

Tříjezerní

Vydra

Laka

Boubínský

Schwarzenberský

Kašperk



a) jezero

b) hrad

c) slat'

d) řeka

e) prales

f) plavební kanál

### 3. Ze znaků národních parků zmizely názvy míst. Vyber je ze spodního řádku. Příslušné číslo u názvu napiš do okénka u znaku.

Body



1) Podyjí

2) Krkonošský

3) Šumava

4) České Švýcarsko

### 4. Zakroužkuj názvy vrcholů, které se nachází v pohoří Šumava.

Body

a) Klínovec

b) Luzný

c) Praděd

d) Sněžka

e) Třístoličník

f) Poledník

g) Milešovka

h) Boubín

5. Přiřaď rostlinu k ročnímu období, ve kterém má svoji hlavní dobu květu. Číslo u rostliny napiš vedle příslušného ročního období.

Body

jaro  
březen–květen

léto  
červen–srpen

podzim  
září–listopad



1 podběl lékařský



2 dřívátka horská



3 prha arnika



4 líska obecná



5 oměj šalámounek



6 třezalka skvrnitá



7 hořec panonský

6. Přiřaď hnízdo k ptačímu druhu. Číslo odpovídajících hnízd napiš do okének u ptáků.

Body



králíček obecný



ledňáček říční



skorec vodní



chřástal polní



sokol stěhovavý



tetřev hlušec



pušтік bělavý



čáp černý




1



2




3



4




5



6




7



8

7. Dopln̄ do křížovky názvy dřevin, kterým patří vyobrazené části.  
V tajence vyjde název kaprad'orostu.

Body



Tajenka:


			1						
			2						
			3						
			4						
						5			
6									
			7						
						8			
9									

TAJENKA: .....



8. Napiš ke každému živočichovi jeho rodový název a prostředí, ve kterém žije  
(příklad: rodový n. - jelen). Nápowěda: les, voda, louka, rašeliniště.

Body



.....  
.....

.....  
.....

.....  
.....



.....  
.....

.....  
.....

.....  
.....

### 9. Přiřaď k rostlině její název.

Příslušné číslo u názvu doplň do okénka u rostliny.

Body



1 bělomech sivý



2 provazovka tlustvousá



3 suchopýr pochvatý



4 rozrazil rezekvítek



5 kontryhel pastvinný



6 kosatec sibiřský

### 10. Vyber z nabídky každému živočichovi nejvhodnější potravu.

Název potravy napiš vedle příslušného živočicha.

Body



.....



.....



.....



.....



.....



.....



.....



.....