



Přírodovědná soutěž - I. kolo

NP A CHKO ŠUMAVA VE ŠKOLNÍCH LAVICÍCH

V. kategorie (6. třída)

ŠKOLA:

PRÍJMENÍ:

JMÉNO: BODY:

1. Ve kterém roce byl vyhlášen Národní park Šumava?

Body

a) 1963

b) 1989

c) 1991

d) 2000

2. Jak se nazývá nejvyšší vrchol na české straně pohoří Šumava? Uveď jeho nadmořskou výšku.

Body

Název:

Výška:

3. Vyjmenuj ledovcová jezera, která se nachází na české straně Šumavy.

Body











4. Na obrázcích jsou známá místa v Národním parku Šumava. Pojmenuj tato místa.

Body





5. Přičřaď k živočichovi jeho potravu. Příslušné číslo u živočicha napiš do kolonky u potravu.

Body

 1	 2	 3	 4	 5
 <input type="checkbox"/>	 <input type="checkbox"/>	 <input type="checkbox"/>	 <input type="checkbox"/>	 <input type="checkbox"/>

6. Napiš k živočichovi jeho rodový a druhový název a zakroužkuj býložravce (příklad: *rys ostrovid*, *rys* - rodový *n.*, *ostrovid* - druhový *n.*).

Body

			
.....
.....
.....

7. Vyřeš doplňovačku, zapiš tajenku a odpověz na otázku.

Body

1. noční pták
2. naše nejjedovatější bylina (kvetě modře)
3. noční motýl
4. ryba s jedním vousem na spodní straně úst

1				
2				
3				
4				

TAJENKA:

Doplň druhový název organismu z tajenky:

8. V Národním parku Šumava roste řada vzácných a chráněných rostlin. Napiš k rostlině její rodový a druhový název (příklad: podběl lékařský, podběl - rodový n., lékařský - druhový n.).



Body

.....

.....

.....

.....

.....

.....



.....

.....

.....

.....

.....

.....

9. Pobyt v přírodě nám zpříjemňují svým zpěvem ptáci. Napiš k pěvci jeho rodový a druhový název (příklad: vrabec domácí, vrabec - rodový n., domácí - druhový n.).

Body



.....

.....

.....

.....

.....

.....



.....

.....

.....

.....

10. Přřad' k broukovi jeho řzev.

Body



1 klikoroh borovř




2 pestrokrovečnik mravenčř



3 hrobařřk malř



4 listokaz zahradnř



5 střevlřk zlatolesklř



6 tesařřk obecnř

11. Pojmenuj nřsledujřř organismy (rodovř nřzev, přřklad: muchomřrka).

Body



12. Uved' rodovř a druhovř nřzev stromu, kterřmu patřř list (přřklad: borovice lesnř, borovice - rodovř n., lesnř- druhovř n.).

Body

