



NP A CHKO ŠUMAVA VE ŠKOLNÍCH LAVICÍCH

VII. kategorie (8. třída)

ŠKOLA:

PRÍJMENÍ:

JMÉNO: BODY:

1. Odpověz na otázky:

Body

a) Jak se jmenuje nejvýše položená obec v České republice?

b) Vyjmenuj ledovcová jezera na české straně Šumavy.
.....

c) Která řeka vzniká soutokem Roklanského a Modravského potoka?

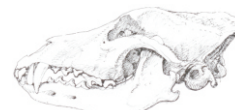
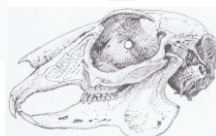

d) Po těžbě kterého kovu vznikaly podél vodních toků sejpy?

e) Jak se nazývala obchodní stezka, která spojovala Šumavu a Bavorsko?
.....

2. Přiřaď k živočichovi správnou lebku a napiš jeho rodový a druhový název

(příklad: srnec obecný, srnec - rodový n., obecný - druhový n.). Příslušné číslo u lebky napiš do kolonky u živočicha.

Body



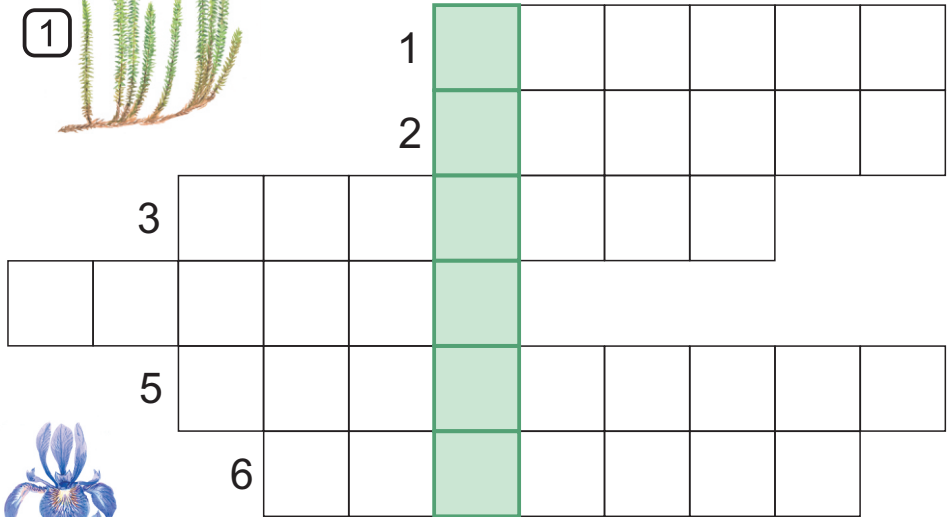

3. Ke každému stromu napiš jeho rodový a druhový název (příklad: vrba bílá, vrba - rodový n., bílá - druhový n.).

Body



4. Vyřeš doplňovačku a zapiš tajenku.

Body



TAJENKA:

5. Napiš rodový a druhový název ptáků a zařaď je do správného řádu
(příklad: orel mořský, orel - rodový n., mořský - druhový n.). Příslušné číslo u řádu
napiš do kolonky u ptáka.

Body


1. dravci

2. pěvci

3. hrabaví

4. šplhavci

5. vrubozubí



6. Přiřaď rostliny ke správným biotopům. Příslušné číslo u biotopu napiš do kolonky u rostliny.

Body



dřípatka
horská



rosnatka
okrouhlolistá



sedmikvítka
evropský



okřehek
menší



hořec
panonský



lakušník
vodní



zvoneček
černý



suchopýr
pochvatý

7. Přiřaď k hmyzu jeho název. Příslušné číslo u názvu napiš do kolonky u hmyzu. Zakroužkuj živočicha, který mezi ostatní nepatří, a napiš proč.

Body



1 piložitka velká



2 klikoroh borový



3 pestrokrovečnick mravenčí



4 tesařík smrkový



5 lýkožrout smrkový



6 hrobařík malý

Proč:

8. Jsou tato tvrzení pravdivá? Zakroužkuj správnou odpověď.

Body

Plechý měří 1 378 m n. m.

ano ne

Šumavský národní park je nejstarším národním parkem České republiky.

ano ne

Pramen řeky Otavy se nachází na úpatí Černé hory u Kvildy.

ano ne

Největší rašelinné jezíčko v České republice se nachází na Chalupské slati.


ano ne

Schwarzenberský plavební kanál je nejdelším plavebním kanálem na Šumavě.

ano ne

9. Přiřaď k peří správného ptáka. Příslušné číslo u ptáka napiš do kolonky u peří.

Body



10. Napiš rodový a druhový název obojživelníků (příklad: rosnička zelená, rosnička - rodový n., zelená - druhový n.).

Body

