



NP A CHKO ŠUMAVA VE ŠKOLNÍCH LAVICÍCH

VIII. kategorie (9. třída)

ŠKOLA:

PRÍJMENÍ:

JMÉNO: BODY:

1. Odpověz na otázky:

Body

a) Řeka Otava vzniká soutokem řeky Vydry a Křemelné. U které osady se tento soutok nachází?

.....

b) Byl Národní park Šumava založen v roce 1991?

c) Jak se jmenuje nejvyšší hora na české straně Šumavy?

d) Vyjmenuj ledovcová jezera na české straně Šumavy.

.....

e) Jak se jmenuje nejvýše položený královský hrad na Šumavě i v České republice?

.....

2. Napiš rodový a druhový název šelmy a zařaď ji do správné čeledi (příklad: lasice hranostaj, lasice - rodový n., hranostaj - druhový n.). Příslušné číslo u čeledi napiš do kolonky u šelmy.

Body


1. psovitě


2. kočkovitě


3. lasicovitě

4. medvídkovitě

5. medvědovitě















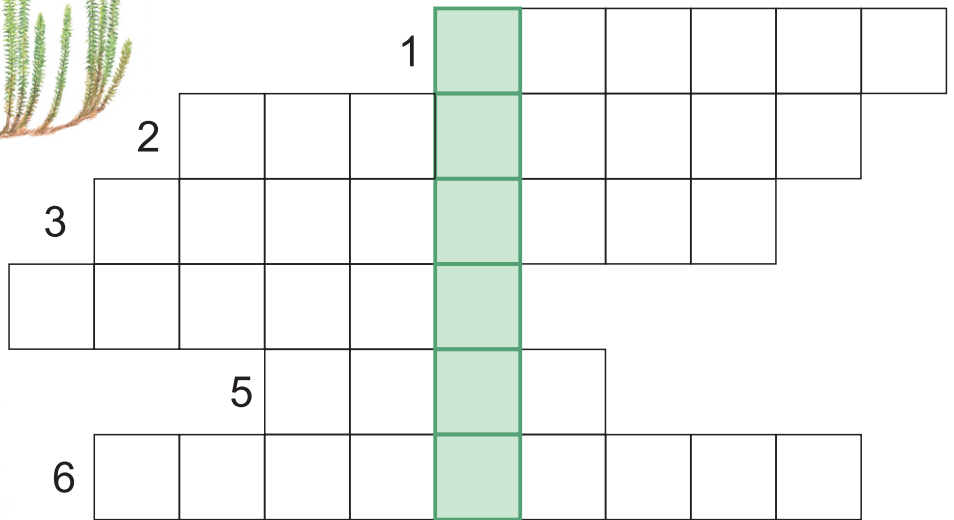



3. Ke každému stromu napiš jeho rodový a druhový název (příklad: vrba bílá, vrba - rodový n., bílá - druhový n.).



Body

4. Vyřeš doplňovačku a zapiš tajenku.




Body

TAJENKA:


5. Přiřaď k živočichovi správné pobytové znamení a napiš rodový a druhový název živočicha (příklad: orel mořský, orel - rodový n., mořský - druhový n.). Příslušné číslo u živočicha napiš do kolonky u pobytového znamení.

Body



6. Napiš rodový a druhový název rostlin a přiřaď je ke správným biotopům (příklad: šřavel kyselý, šřavel - rodový n., kyselý - druhový n.). Příslušné číslo u biotopu napiš do kolonky u rostliny.

Body









.....

.....

.....

.....

.....

.....

.....

.....









.....

.....

.....

.....

.....

.....

.....

.....

7. Napiš rodový a druhový název ptáka a přiřaď k němu správné hnízdo (příklad: vrabec polní, vrabec - rodový n., polní - druhový n.). Příslušné číslo u hnízda napiš do kolonky u ptáka.

Body














.....

.....



1



2



3



4



5



6

8. Napiš k rybám jejich rodový a druhový název (příklad: kapr obecný, kapr - rodový n., obecný - druhový n.).

Body



.....

.....




.....

.....

.....

9. Seřad' vývojová stádia lýkožrouta smrkového od napadení stromu přes vývoj k dospělému jedinci. Do kolonek napiš pořadová čísla 1-7, 1 - napadení stromu, 7 - dospělý jedinec.

Body



10. Napiš k fotografii, o jaké místo na Šumavě se jedná.

Body



.....

.....

.....



.....

.....

.....
