



ŠKOLA: .....

PRÍJMENÍ: ..... **SPRÁVNÉ ŘEŠENÍ** .....

JMÉNO: ..... BODY: **82** .....

1. Škrtni jména skřítků nebo víl, kteří nepatří k uvedenému obrázku, protože jejich strom vypadá jinak.

Body **2**



~~Dubínek~~



Březinka



~~Jedlička~~



Javornička

2. Najdi a spočítej na obrázku obyvatele šumavského lesa, kteří jsou uvedeni vedle obrázku. Jejich počty zapiš do čtverečků.

Body **6**



hřib smrkový **1**

norník rudý **1**

jezevec lesní **5**

žížala obecná **2 i 3**

křemenáč březový **2**

liška obecná **5**


3. Pojmenuj obrázky zvířat a doplň číslo obrázku s potravou, kterou se živí nejčastěji.

Body **18**

**6**   
bobr evropský

**2**   
ježek západní

**1**   
jelen evropský

**5**   
rys ostrovid

**4**   
vydra říční

**3**   
lasice hranostaj



4. Doplně správné názvy živočichů a rostlin, které jsou v obrázku označené kroužkem a číslem. Každá tečka znamená jedno písmeno k doplnění.

Body  
20



- 1 SÝKORA MODŘINKA  
2 TRNKA OBECNÁ  
3 SÝKORA KOŇ ADRA  
4 ZVONEK ROZKLADITÝ  
5 RŮŽE ŠÍPKOVÁ

- 6 JEŘÁB PTAČÍ  
7 KOS ČERNÝ  
8 BEZ ČERNÝ  
9 VRABEC POLNÍ  
10 MATEŘÍDOUŠKA VEJČITÁ

5. Napiš, čím se živí živočichové z kulatých obrázků. Kde není název živočicha, doplň ho.

Body  
8



babočka paví oko

..... nektar ..... pyl, nektar a medovice ..... hmyz, rostliny.



včela medonosná



kobylka luční



housenka motýla

..... rostliny



..... krtek obecný .....

..... žížaly, hmyz ..... semena rostlin, hmyz



myška drobná

6. Rostliny na obrázcích slouží jako potrava pro zvířata, ale jsou důležité i pro naše zdraví. Jak je nazýváme?

Body  
1



Nazýváme je:

..... léčivé rostliny .....

7. Doplň pod obrázek v obdélníčku název živočicha, ke kterému patří obrázek jeho vajíček, larev nebo mláďat. Vybírej z těchto živočichů:

Body  
4



ropucha



ledňáček



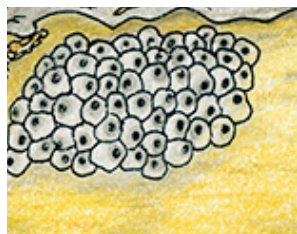
skokan



chrostík



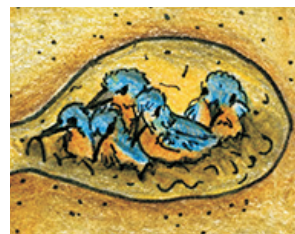
ropucha



skokan




chrostík



ledňáček


8. Jak mají jít správně za sebou obrázky vývoje skokana hnědého od vajíčka až po dospělé? Očísluj obrázky od 1 do 4.

Body  
4



9. Najdi v obrázku šumavské řeky uvedené živočichy a označ je v obrázku jejich písmeny.

Body  
8



- A pstruh potoční
- B užovka obojková
- C perlorodka říční
- D vážka čtyřskvrnná
- E vranka obecná
- F konipas horský
- G vydra říční
- H mihule potoční

10. Prohlédni si obrázek šumavského rašelinště a vyber z dvojice tvrzení vždy jen to správné. Špatné škrtni.

Body  
5



- 1 ~~Na šumavských rašelinštích je stále velké sucho.~~  
Na šumavských rašelinštích bývá vlhko a chlad.
- 2 ~~Zvířátka a rostliny zde nežijí.~~  
Zvířátka a rostliny zde žijí na rozhraní vody a země.
- 3 Mechy rašeliníky dokážou neustále dorůstat.  
~~Mechy rašeliníky nedokážou růst v prostředí s nadbytkem vody.~~
- 4 ~~Na rašelinštích se nachází hodně živin.~~  
Na rašelinštích se nachází málo živin.
- 5 ~~Na šumavských rašelinštích nerostou masožravé rostliny.~~  
Na šumavských rašelinštích rostou masožravé rostliny.

11. Kolik mají nohou? Doplň správná čísla do okének pod jednotlivé obrázky.

Body  
6



žluťásek borůvkový

6



slídák rašelinný

8



hraboš mokřadní

4



zmijs obecná

0



ještěrka živorodá

4



tetřívka obecná

2