



NP A CHKO ŠUMAVA VE ŠKOLNÍCH LAVICÍCH

VIII. kategorie (9. třída)

ŠKOLA:

PRÍJMENÍ: **SPRÁVNÉ ŘEŠENÍ**

JMÉNO: BODY: **103**

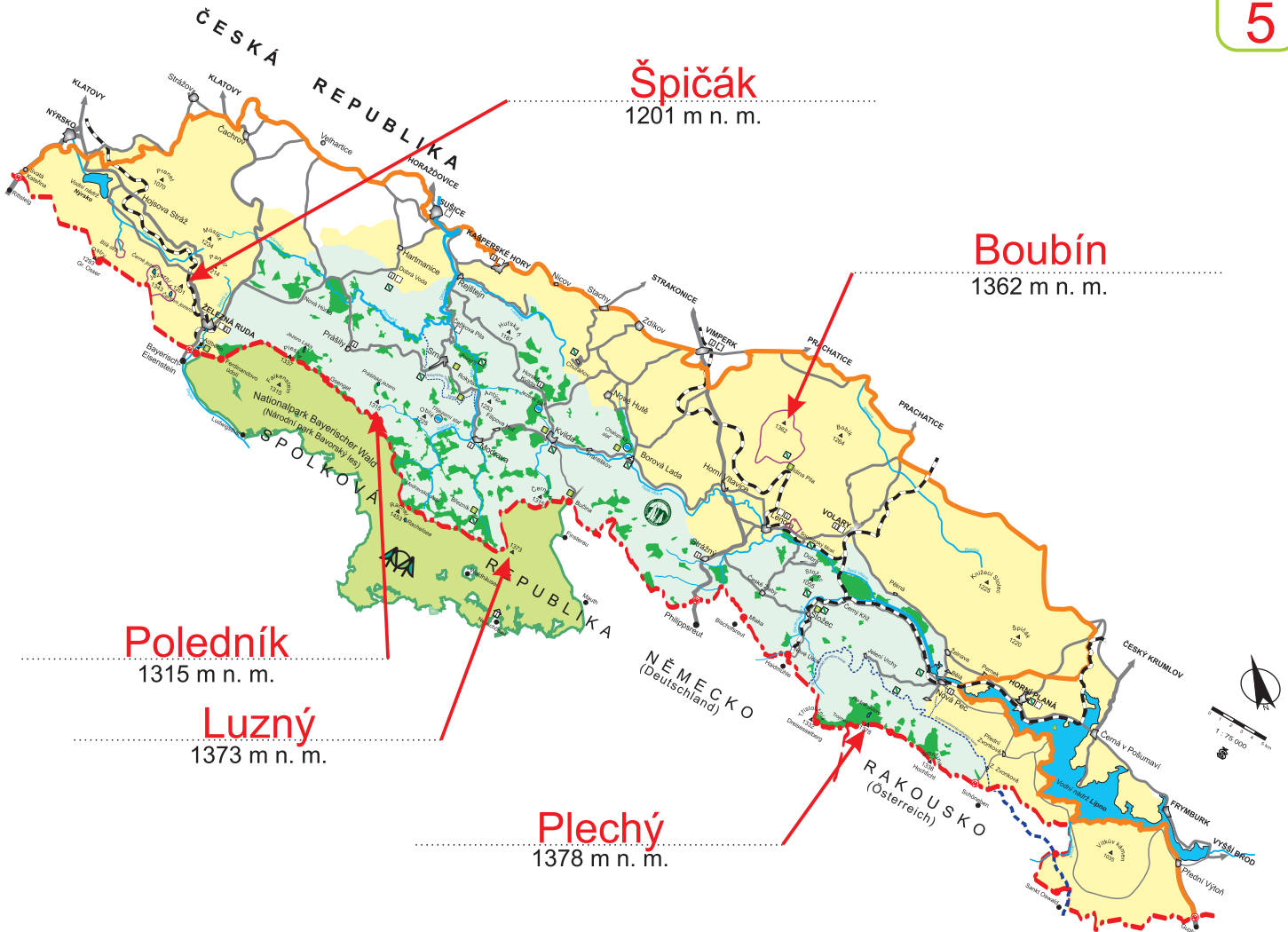
1. Přiřaď správné číselné údaje:

Body
5

- | | | |
|---|----------|---------------|
| a) Rok založení NP Šumava | 5 | 1 1378 |
| b) Rok založení CHKO Šumava | 3 | 2 683 |
| c) Nadmořská výška nejvyššího vrcholu NP Šumava | 1 | 3 1963 |
| d) Rozloha NP Šumava v km ² | 2 | 4 994 |
| e) Rozloha CHKO Šumava v km ² | 4 | 5 1991 |

2. Napiš názvy vrcholů, ke kterým směřují šipky.

Body
5




3. Napiš rodový a druhový název živočichů a zakroužkuj invazní druhy

(příklad: orel mořský, orel - rodový n., mořský - druhový n.).

Body

17



norek
americký



zmije
obecná



perlorodka
říční



lýkožrout
smrkový



mýval
severní



daněk
skvrnitý/evropský



psík
mývalovitý

4. Napiš rodový a druhový název hmyzu (příklad: pilořitka velká, pilořitka - rodový n., velká - druhový n.).

Body

10



motýlice
obecná



potápník
vroubený



splešťule
blátivá



bruslačka
obecná



znakoplavka
obecná

5. Napiš rodové a druhové názvy sov a seřad' je podle velikosti (příklad: sovice sněžní, sovice - rodový n., sněžní - druhový n.). Do okénka u ptáka napiš pořadí velikosti od nejmenší - 1, po největší - 6.

Body

18



puštík
bělavý



kalous
ušatý



puštík
obecný



sýc
rousňý



kulišek
nejmenší



výr
velký

6. Napiš rodový a druhový název ptáka (příklad: orel mořský, orel - rodový n., mořský - druhový n.).

Body
12



zvonek
zelený




luňák
červený



hýl
obecný



konipas
horský



sýkora
koňadra



křivka
obecná

7. Napiš rodový a druhový název ptáka (příklad: orel mořský, orel - rodový n., mořský - druhový n.) a napiš, do jakého řádu patří (např. vrubozubí).

Body
9



strakapoud
velký
šplhavci

řád:



krkavec
velký
pěvci

řád:



holub
doupňák
měkkozobí

řád:

8. Napiš rodový a druhový název stromu, kterému patří daný list, a přiřaď k němu jeho plod (příklad: vrba bílá, vrba - rodový n., bílá - druhový n.). Číslo u plodu napiš do okénka u listu.

Body
15



3

jilm
horský/drsný



1

jasan
ztepilý



2

javor
klen



5

bříza
bělokorá




4

javor
mléč



1



2



3



4




5

9. Vyplň do křížovky rodové názvy rostlin a napiš tajenku.

Body

8



1	B	L	A	T	O	U	C	H											
					2	D	Ř	Í	P	A	T	K	A						
3	S	E	D	M	I	K	V	Í	T	E	K								
					4	B	O	L	Š	E	V	N	Í	K					
					5	J	I	R	N	I	C	E							
6	J	E	S	T	Ř	Á	B	N	Í	K									
7	K	O	N	V	A	L	I	N	K	A									

TAJENKA: OŘEŠNÍK


10. Poznej místa na Šumavě.

Body

4



Tříjezerní slat'



řeka Vydra



Schwarzenberský
plavební kanál

kostel
Kvilda

